

<範圍：翰林版第五章、第六章北美洲與中南美洲>

【劃卡代號：52】

班級： 座號： 姓名：

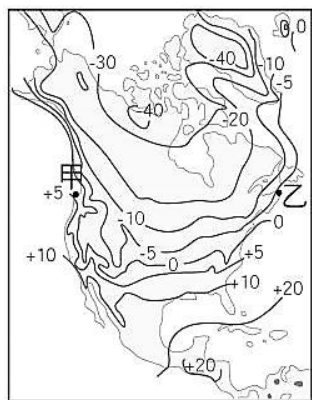
※答案卡限用 2B 鉛筆劃記，答案請劃記明確；若有劃記錯誤，請擦拭乾淨。分數以電腦讀卡分數為準。
 ※共 25 題，每題 4 分，滿分 100

1. 1540 年出版的《宇宙地理學-新與舊》是地圖大師塞巴斯蒂安·明斯特最重要的地圖作品之一，這部著作創造了一個觀察地球的新角度，將每一個大洲的地圖單獨繪製出來，這一繪製方法延用至今日的世界地圖集中。右圖為該著作中的北美古地圖。若將古地圖加上經緯線，哪張經緯線圖最正確？



- (A) (B)
- (C) (D)

2. 右圖是北美洲一月的等溫線分布圖。從圖中可看出甲地較同緯度的乙地溫度高，造成這種現象的主要原因為何？

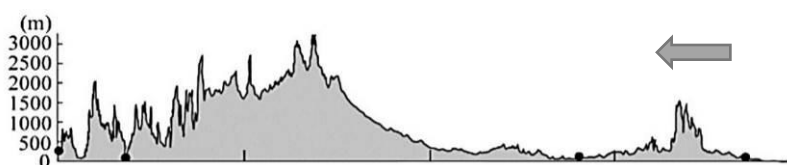


- (A) 緯度高低
 (B) 海岸類型
 (C) 洋流性質
 (D) 地形分布

3. 美國拉斯維加斯在西班牙語的意思是肥沃的草地，此名稱由來，是因為在周圍一大片荒涼沙漠之中，唯有拉斯維加斯是擁有泉水的綠洲。上述城市氣候呈現乾燥少雨的主要原因為何？

- (A) 沿岸有寒流經過 (B) 地勢高聳降水少
 (C) 位西風的背風側 (D) 熱帶低氣壓籠罩

4. 下圖為北美洲地形剖面圖。圖中「←」所指的應該是哪個方向？



- (A) 東方 (B) 西方 (C) 南方 (D) 北方

5. 2021 年，考古學家在美洲某沙漠發現鸚鵡木乃伊殘骸，這些鸚鵡並非當地物種，推測可能是隨貿易商隊從亞馬孫流域運到沙漠。右圖為發現鸚鵡木乃伊的沙漠位置圖。該地距離海洋非常近，仍有沙漠主要原因為何？



- (A) 四周有高山圍繞
 (B) 位西風的背風側
 (C) 地處在陸地內部
 (D) 副熱帶高壓籠罩

6. 臺灣位於環太平洋火山地震帶，經常發生地震，而整個太平洋周邊也是全世界地震次數最多的地震帶，其影響不只是亞洲，也包含了大洋洲與美洲。下列哪一個地形區與臺灣同屬於環太平洋火山地震帶？

- (A) 洛磯山脈 (B) 巴西高原 (C) 亞馬孫盆地 (D) 西印度群島

7. 中美洲的原住民，善用利用自然環境來發展產業活動，例如：浮園耕作法，是當地人就地取材，增加耕地面積的耕作方式，至今仍有居民使用。請問浮園耕作法是下列哪一種人發明的？

- (A) 馬雅人 (B) 印加人 (C) 因紐特人 (D) 阿茲提克人

8. 胖虎的美洲地形筆記如下：「中美洲的北部為(甲)墨西哥高原，是洛磯山脈的延伸，火山、地震頻繁，(乙)巴拿馬運河位於此；南部為(丙)中美地峽，連接北美洲與南美洲的重要橋梁；東方的(丁)加勒比海上，則散布著島嶼眾多的(戊)東印度群島，如(己)海地。」請問上述筆記有哪些內容有誤？

- (A) 甲乙 (B) 乙戊 (C) 乙己 (D) 戊己

9. 靜香到南美洲開車旅遊，從秘魯首都利馬出發，沿著西部海岸公路一路南下，途中依續會經過哪些氣候區？(甲)熱帶沙漠氣候 (乙)溫帶地中海型氣候 (丙)溫帶海洋性氣候 (丁)溫帶大陸性氣候 (戊)夏雨型暖溫帶氣候。

- (A) 甲乙丙 (B) 乙丙丁 (C) 甲乙戊 (D) 丙丁戊

10. 「寒假時，大雄到北美洲出差，首先抵達 A 城市，隔幾天欲再搭乘飛機前往 B 城市時，卻因 B 城市正處於當地某自然災害，導致機場關閉飛機延遲。」上文所述「某自然災害」最可能是下列何者？



- (A) 地震 (B) 颶風 (C) 暴風雪 (D) 龍捲風

11. USMCA 與 EU(歐盟)一樣同屬區域經濟結盟，EU 成員中的東歐國家提供相對廉價的勞動力，降低生產成本，而 USMCA 成員中，某國也扮演了類似東歐國家的角色，並在該國邊境工業區吸引數千家外商投資，創造近百萬的工作機會。請問某國最可能為哪一國家？

- (A) 美國 (B) 俄羅斯 (C) 加拿大 (D) 墨西哥


12. 中南美洲某國為全球最大的銅礦生產，其儲量約占全球的 29%；產量、出口量亦居世界第一位。右圖為中南美洲礦產分布圖。依圖中資訊分析，哪一地形區是該礦藏最大產地？



- (A) 亞馬孫盆地
- (B) 墨西哥高原
- (C) 安地斯山脈
- (D) 猶加敦半島

13. 承上題，該地形區數百年來馴養著某種動物，是該地的原生物種，其皮毛可利用於紡織品，價值不菲。請問這是指下列哪一動物？

- (A)
- (B)
- (C)
- (D)



14. 1914 年巴拿馬運河開通後，加速國際貿易的速度，商船貿易可節省大量時間和金錢。2016 年 6 月，巴拿馬運河擴建工程完成，運載量大增 3 倍。假若此運河封閉，下列哪一組都市間的海運將受到較大影響？

- (A) 法國 巴黎 - 美國 舊金山
- (B) 日本 東京 - 美國 西雅圖
- (C) 加拿大 渥太華 - 巴西 里約
- (D) 巴西 巴西利亞 - 美國 紐約

15. 1519 年，葡萄牙探險家麥哲倫得到西班牙國王的資助，踏上了目標繞行地球一圈的航海冒險之旅，隔年 8 到 10 月之間，麥哲倫抵達南美洲最南端，在向西穿越海峽到離開南美洲進入太平洋的過程中，較不可能遇到下列哪個現象？

- (A) 天色昏暗日光短暫
- (B) 遭遇強烈颶風侵襲
- (C) 西風冷冽寒風刺骨
- (D) 陡峭曲折峽灣地形。

16. 「中南美洲的都市化程度不斷提高，平均多在 75% 以上，顯示人口高度集中在大都市，形成貧富差距大、有眾多貧民窟的都市景觀，也是造成中南美洲社會動盪的原因之一。」請問造成此種現象的主要原因為何？

- (A) 政府政策鼓勵
- (B) 鄉村推力強大
- (C) 殖民母國強迫
- (D) 都市工業發達

17. 爵士樂誕生於 19 世紀末，是美國黑人以非洲音樂傳統為基礎，結合現實中的遭遇創作出來的，該音樂起源密西西比河下游一帶，應為圖中何處？



- (A) 甲
- (B) 乙
- (C) 丙
- (D) 丁

18. 臺灣鴻海集團看好未來電動車市場的發展潛力，於 2022 年 5 月正式收購一座美國車廠，成為該集團在北美洲第一個電動車製造基地。右圖為該車廠位置圖，依圖判斷，鴻海集團選擇於該地區投資的原因，何者最相關？



- (A) 工業發達，相關產業經驗豐富
- (B) 引進鄰國廉價勞工節省成本
- (C) 石油資源充足，動力成本低
- (D) 高科技發達，有利研發新品

19. 農業文化景觀為人類與土地長時間互動而留下的地景樣貌或設施。下圖為聯合國教科文組織審核列入的兩處文化遺產分布區，這兩處入選與某項作物的種植產業歷史有關。依圖中資訊判斷，該項作物應為何者？



- (A) 玉米
- (B) 咖啡
- (C) 橄欖
- (D) 棉花

20. 「沿著加州中央谷地的大片地區(如右圖甲地帶)，有好幾千英畝的果園種植杏仁樹，全球杏仁市場有多達 82% 是由加州所供應。由於受到美國政府以貿易不公為由，向各國開徵懲罰性關稅的影響，逼使對手國紛紛報復還擊，如印度宣布對杏仁和其他 27 種美國產品(包括蘋果和核桃)加徵進口關稅，以報復美國取消印度的優惠貿易待遇，加州杏仁農無端成為貿易戰砲灰。」根據杏仁的生產氣候條件，印度最有可能改向下列哪一個國家採購杏仁？



- (A) 英國
- (B) 巴西
- (C) 西班牙
- (D) 加拿大

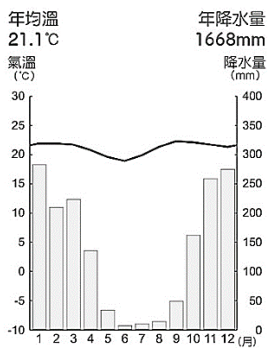
21. 「巴西的森巴舞節奏輕鬆明快，呈現熱情活潑的風格，每年吸引大批觀光客參加。去年五月，在巴西第二大城里約，因疫情停辦 2 年的嘉年華會熱力登場，象徵巴西重回正常生活。」上文提及的舞蹈，較不可能與下列哪一文化融合的呈現？

- (A) 非洲文化
- (B) 拉丁文化
- (C) 伊斯蘭文化
- (D) 印第安文化

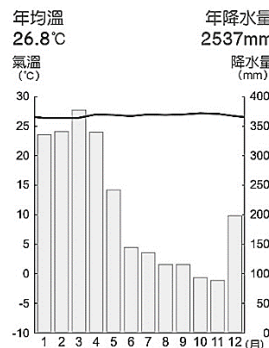
22. 根據 2022 年 2 月公布的數據顯示，在野火、牛隻畜牧和伐木等因素影響下，右圖中的原始森林，於 2018 年 8 月至 2021 年 7 月間濫伐的面積增加 56.6%。下列哪一張圖最符合該原始森林的氣候？



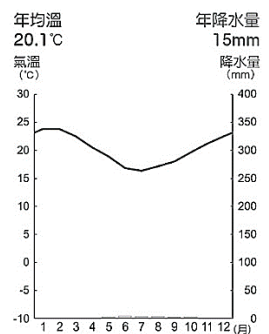
(A)



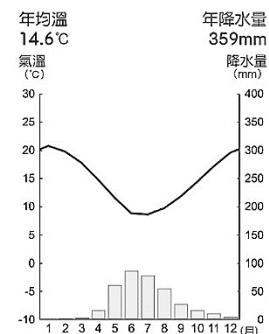
(B)



(C)



(D)



【試題結束】

請仔細檢查答案卡填寫是否正確

【題組】下圖為美國專業化農業帶分布圖。依圖中資訊，回答第 23-25 題：



23. 「近年來，快數成長的植物奶市場，導致美國整體牛奶銷量急遽下滑，壓縮傳統牛奶市場；2019 年 11 月 12 日，美國最大乳品企業甚至宣布申請破產。」何區受到的衝擊可能最大？

- (A)乙 (B)丙 (C)丁 (D)戊

24. 承上題，該農業帶的分布現象，與下列哪一種因素最相關？

- (A)緊鄰市場 (B)原料充足 (C)氣候暖溼 (D)交通便利

25. 棉花原產於熱帶，生長期需要水分和光照充足，採收時天氣要晴朗無雨。上圖中美國境內最適合種植的環境應該為何處？

- (A)甲 (B)乙 (C)丙 (D)戊